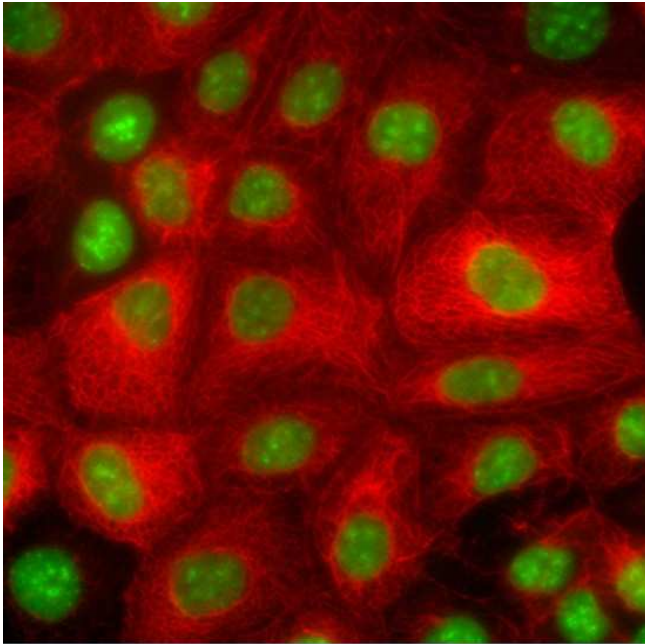




✓ Identifika ezazu argazki bakoitzean ikusten den egitura/prozesu nagusia. Adierazi ere erabilitako mikroskopia mota. (MO: Mikroskopia optikoa; FLUO: Fluoreszentziako mikroskopia; TEM: Transmisiozko mikroskopia elektronikoa, SEM: Ekorketazko mikroskopia elektronikoa)

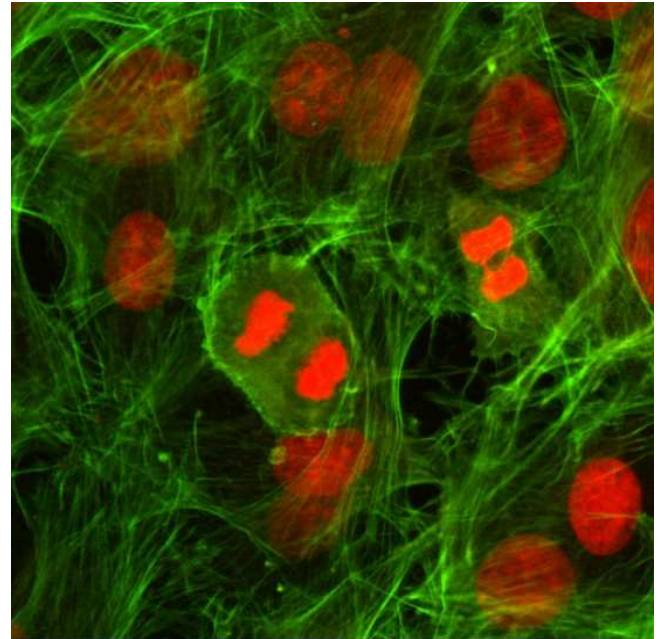
Mikroskopia

▪ Aktinazko zitoeskeletoa eta zatiketa zelularra		A	B	C	D
▪ Aktinazko zitoeskeletoa eta kontaktu fokalak		A	B	C	D
▪ Mikrotubuluak		A	B	C	D
▪ Tarteko piruak		A	B	C	D



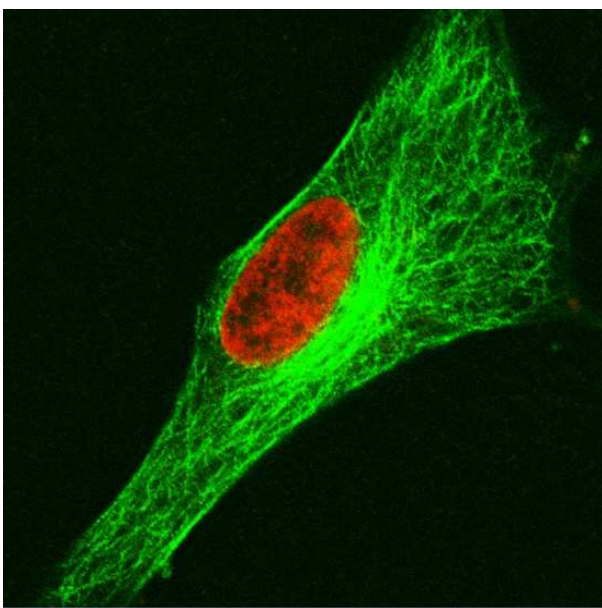
Wellcome Images

A) © Kate Storey/Wellcome Images. Creative Commons by-nc-nd 2.0 UK



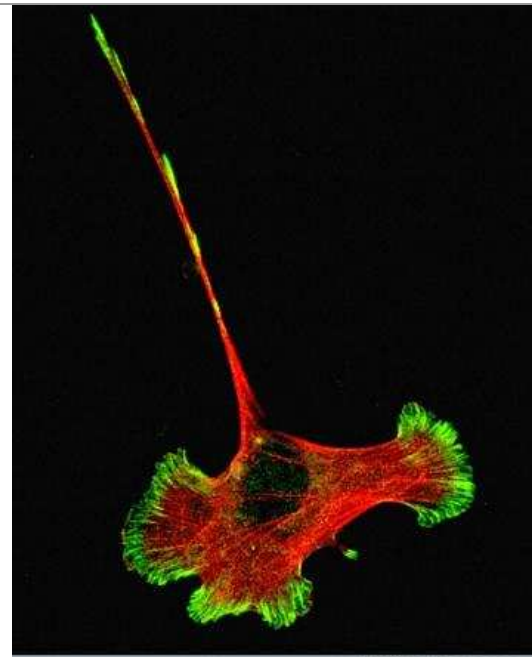
Wellcome Images

B) © Kate Whitley/Wellcome Images. Creative Commons by-nc-nd 2.0 UK



Wellcome Images

C) © Matthew Daniels/Wellcome Images. Creative Commons by-nc-nd 2.0 UK



Wellcome Images

D) © Dawn Davies/Wellcome Images. Creative Commons by-nc-nd 2.0 UK