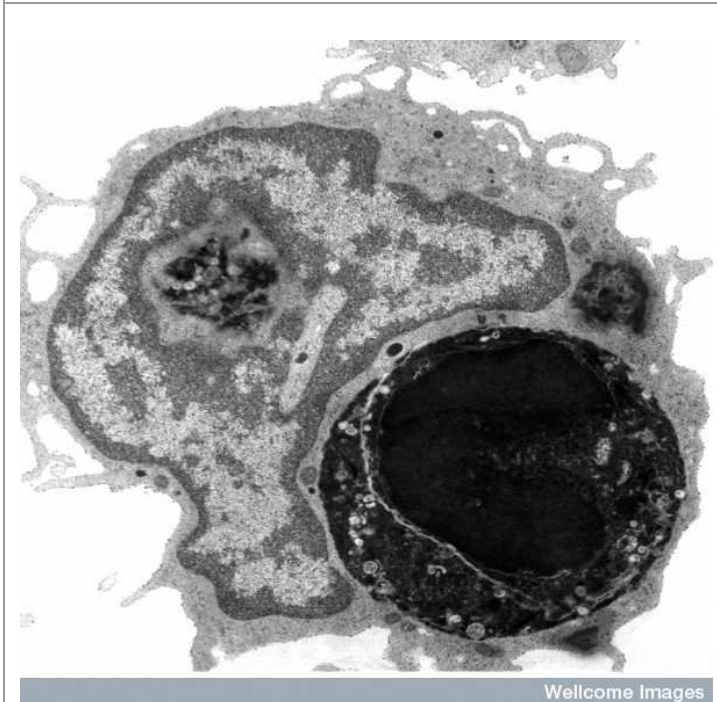




- ✓ Identifika ezazu argazki bakoitzean ikusten den egitura/prozesu nagusia. Adierazi ere zein den erabilitako mikroskopia mota. (**MO**: Mikroskopia optikoa; **FLUO**: Fluoreszentziako mikroskopia; **TEM**: Transmisiozko mikroskopia elektronikoa, **SEM**: Ekorketazko mikroskopia elektronikoa)

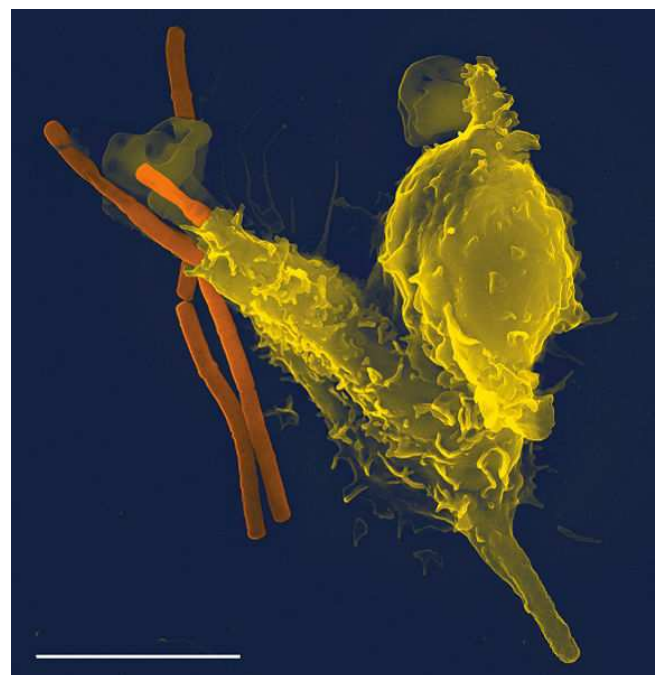
Mikroskopia

▪ Bakterioen fagozitosia		A	B	C	D
▪ Klattrinazko estaldurak eta fagosomaren eraketa		A	B	C	D
▪ Mikrobilosken zeregina fagozitosian		A	B	C	D
▪ Zelula bat fagozitatua		A	B	C	D

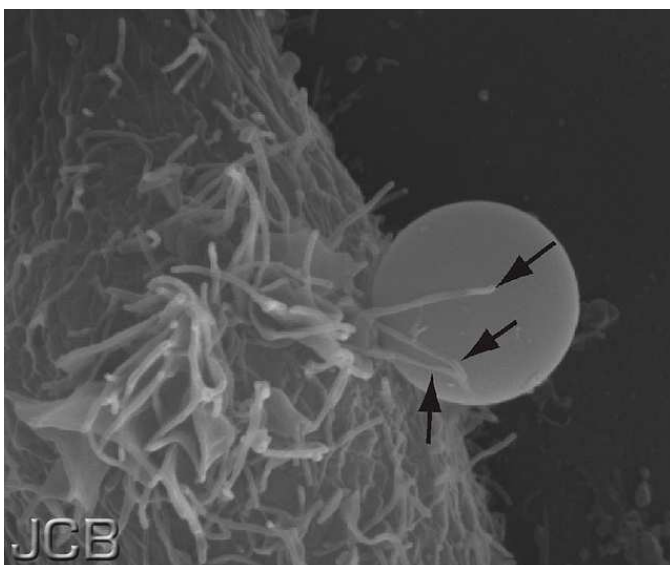


Wellcome Images

A) Credit Dr Jeremy Skepper, Wellcome Images



B) Volker Brinkmann/Wikimedia Commons



JCB

C) Reference: Flannagan et al. (2010) J. Cell Biol.191, 1205-1218.



JCB

D) Reference Bonazzi et al. (2011) J. Cell Biol. 195, 525-536