

Tratamendu periodontal ez-kirurgikoa: praktikak

Egileak:

Aguirre-Zorzano LA, Estefanía-Fresco R, Fernández-Jiménez A,
García-De-La-Fuente AM,

OCW-2017

Ikasleek gai teorikoak ikasi ostean, 6 filma ikusi behar izango dituzte jarduera praktikoak ahal egiteko.

Ariketa praktikoak gai teorikoetan eta filmetan oinarrituta daude.

Saiatu zaitetz ariketa praktikoak egiten. Erantzuteko arazorik izanez gero, begiratu berriro irakasteko materialari.

1. ARIKETA

a) Hortzoiaren atzera-egitearen neurria hartzeko, zein tresna erabiliko dugu? Eman izena. Deskribatu.

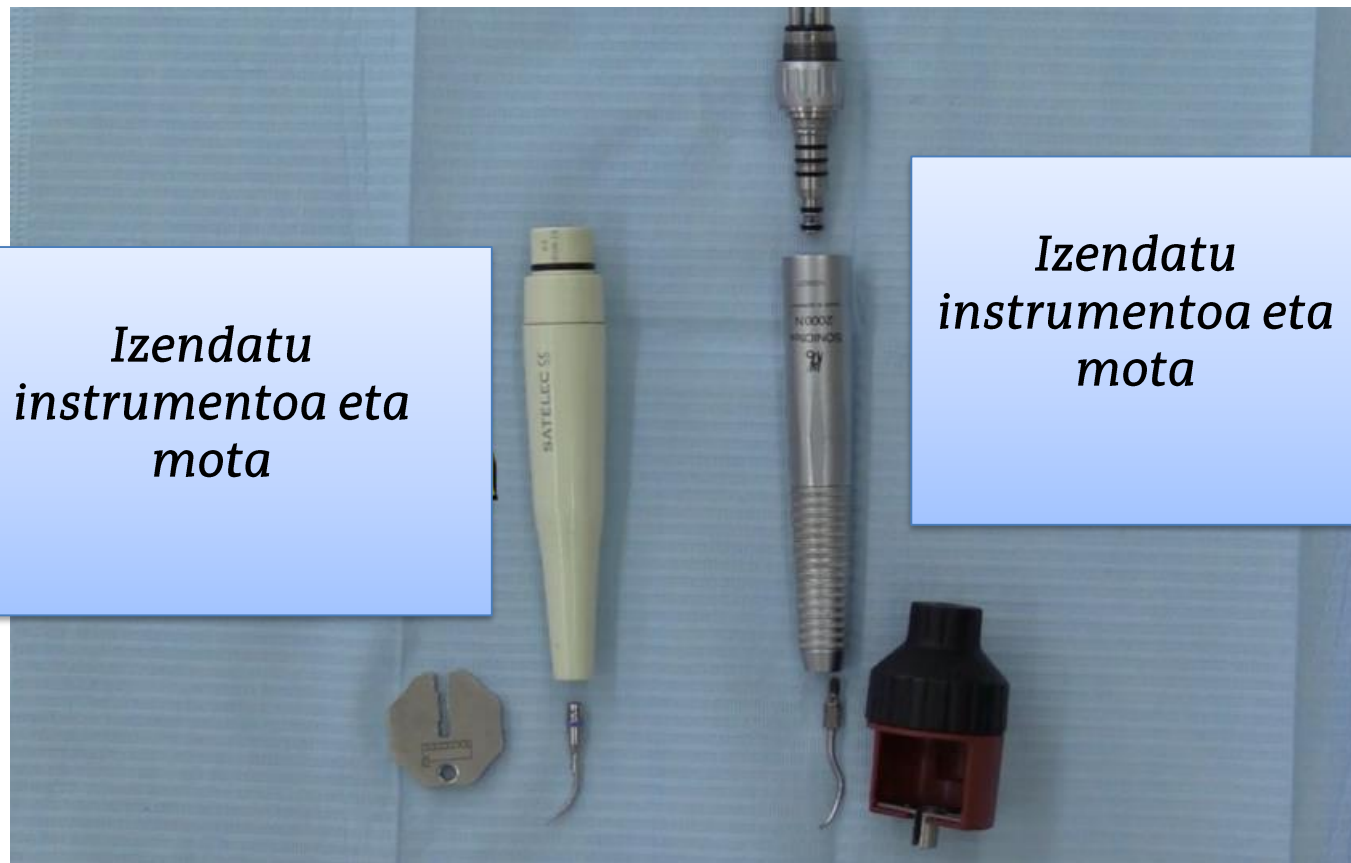


b) Hurrengo argazkian zenbat neurtzen du hortzoiaren atzera-egiteak ebakortz lateral horretan masailaldeko alde urrunean?



2. ARIKETA

Filma ikusi eta gero, izendatu hurrengo tresneria eta haien erabilera



3. ARIKETA

Ultrasoinuren kokapena zuzena da? Zein angelu-erasoa erabiliko dugu tartrektomia egiterakoan?

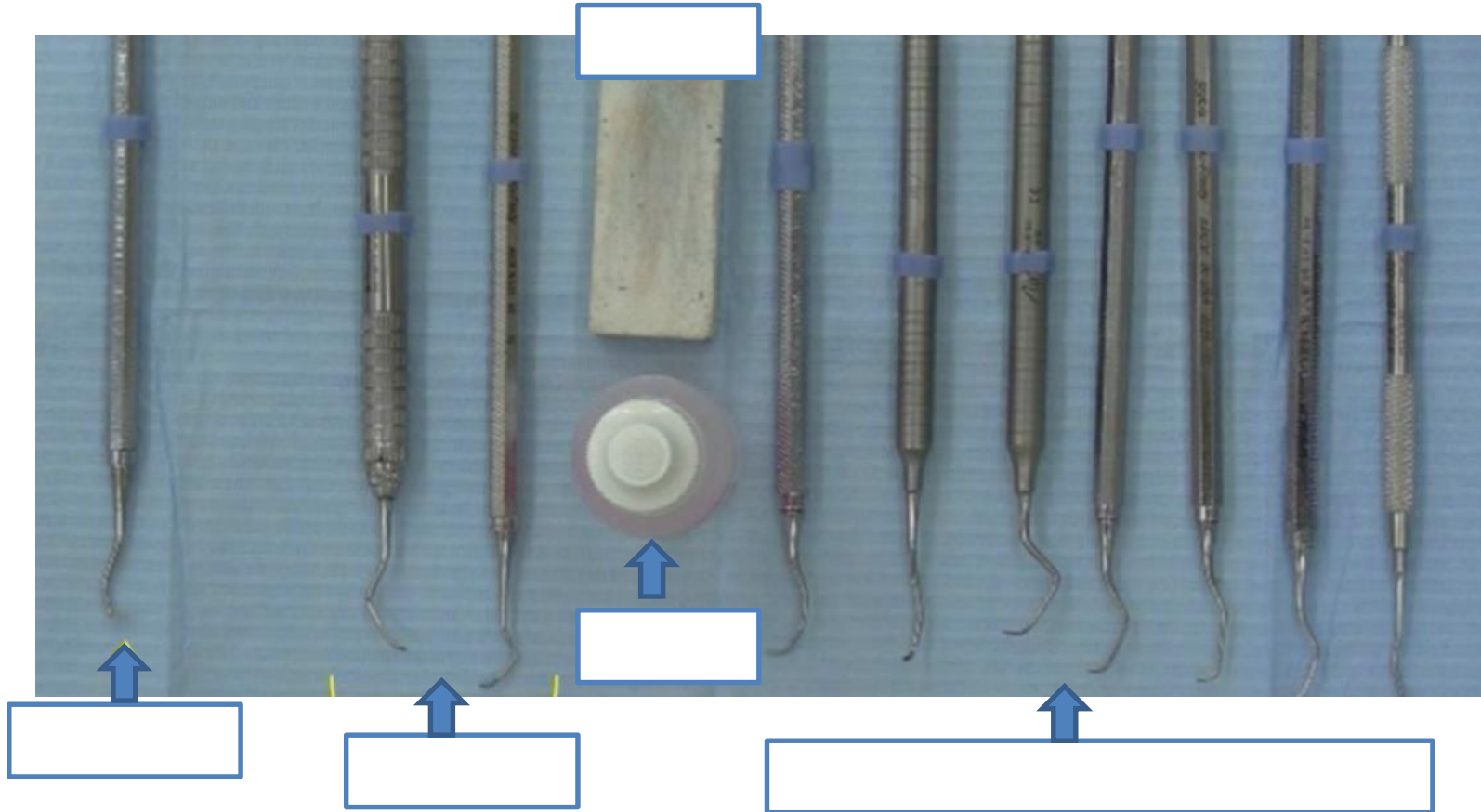
Zertarako erabiliko da?

Eman erantzuna, baina beti justifikatua izan behar da.



4. ARIKETA

Izendatu hurrengo tresneria periodontala.



5. ARIKETA

Zer egiten ari da profesionalak?



Deskribatu euskarria eta ikuspena nolakoa den



6. ARIKETA

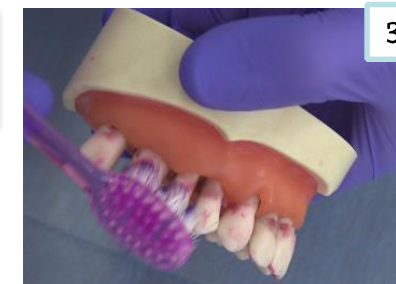
Zein eskuilatzeko teknika da?

Deskribatu pausuak.

Noiz erabiliko da?



Egileak: Aguirre LA,
Estefanía R, Fernández A,
García AM,



7. ARIKETA

Zein eskuilatzeko teknika da?

Deskribatu pausuak.



Noiz erabiliko da?



Egileak: Aguirre LA, Estefanía R, Fernández A, García AM,

8. ARIKETA

Deskribatu Hortz-arteko hariaren erabilera



9. ARIKETA

Esan hortzarteko eskuilatxoa noiz erabiltzen den.

Izendatu hortzetako eskuilatxoaren abaintalak.

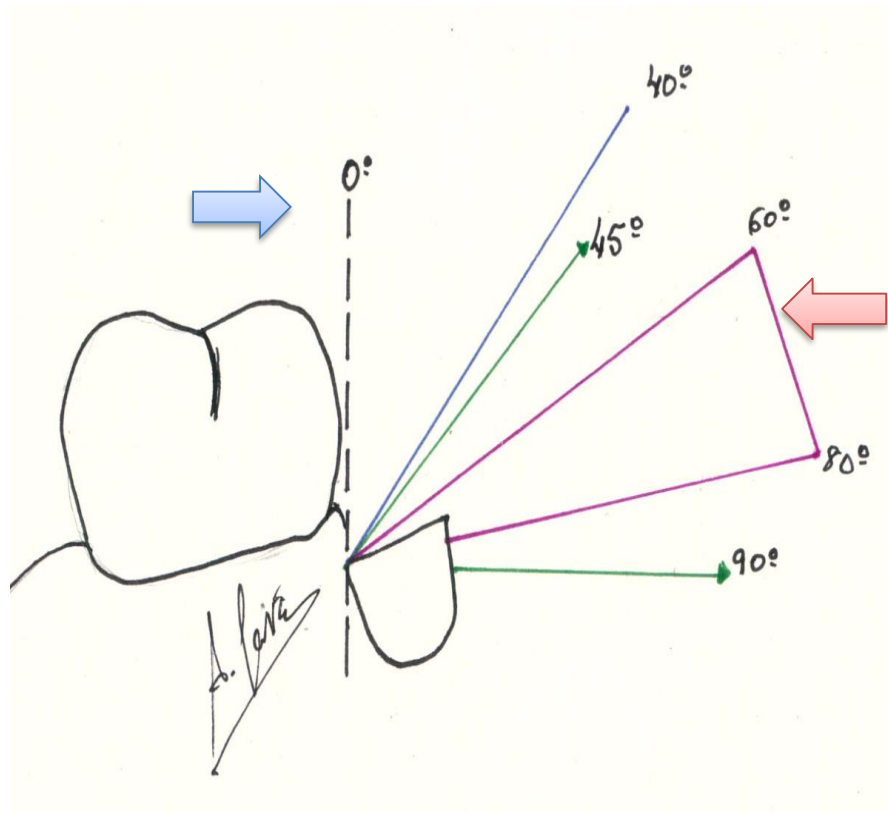
Begiratu A eta B irudiei eta aukeratu zein irudietan hortzetako eskuilatxoa egokia den eta justifikatu zuen erantzuna



Egileak: Aguirre LA, Estefanía R, Fernández A,
García AM,

10. ARIKETA

Deskribatu tresneriaren aktibazioa zertan datzan.




Egileak: Aguirre L.A., Estefanía R., Fernández A., García A.M.




11. ARIKETA

Izendatu kuretaren zatiak eta xafla aktiboaren aldeak.

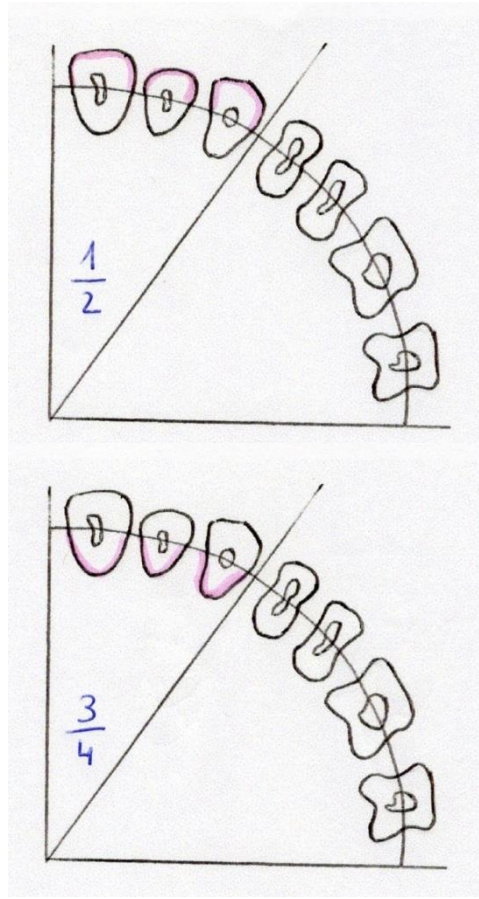


Xafla aktiboaren aldeak



Egileak: Aguirre L.A., Estefanía R., Fernández A., García A.M.

12. ARIKETA



Zein hortzetan eta zein aldeetan

erabiltzen dira 1-2 eta 3-4

Gracey kuretak?

Egileak: Aguirre L.A., Estefanía R.,
Fernández A., García A.M.

13. ARIKETA

Begiratu irudiei eta erantzun hurrengo galdereei:

Zein da kuretaren izena?

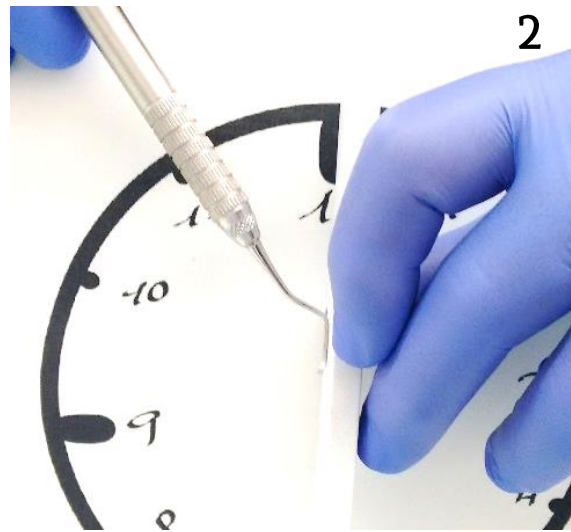

Zein motatakoa?

Noiz erabiltzen da?



14. ARIKETA

Kureta unibertsalak zorrozteko, kuretaren eta zorrozteko harriaren kokapena garrantzitsua da. Esan non kokatzen diren bi elementu.

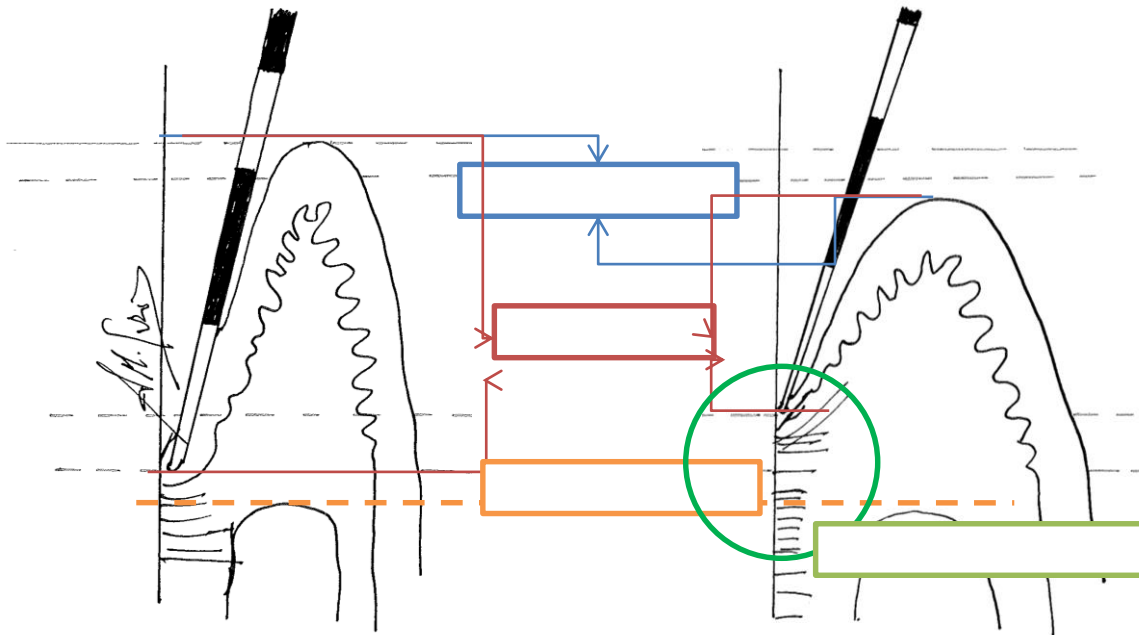


15. ARIKETA

SKL egin ostean, 3-4 astetara, aldaketak histopatologikoak eta klinikoak gertatuko dira,

Hurrengo eskema begiratu ostean, izendatu aldaketa horiek.

Ikuspuntu histopatologikotik esan zein den aldaketa garrantzitsuen.



Egileak: Aguirre L.A., Estefanía R., Fernández A., García A.M.

16. ARIKETA

Euskarriko Terapia Periodontal, tratamendu periodontalaren fase funtsezkoa da, ebidentzia zientifikoaren arabera, ETP berari esker hortzeriaren gehiengoa mantenduko da urtean zehar.

Izendatu, ETPren jarduerak.

17. ARIKETA

Ondorengo hortz-arteko higienerako tresneria izendatu:





18. ARIKETA



Hortz-arteko higieniaren inguruan, zein baieztapen dira egiazkoak:

- a) Hortz-arteko higiene ez da beti beharrezkoa.
- b) Hortz-arteko hariarekin zerra mugimendua egin behar da.
- c) Hortz-arteko eskuilatxoekin III motako furkak garbitu ditzakegu.
- d) Hortz-arteko eskuilatxo batekin aho osoa garbi dezakegu.

19. ARIKETA

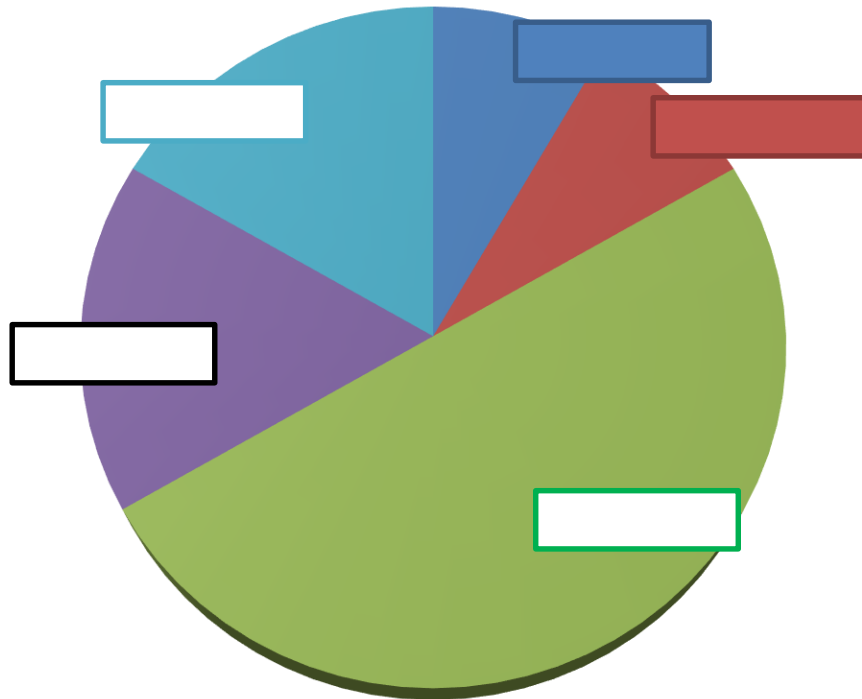


Egileak: Aguirre LA, Estefanía R, Fernández A, García AM,

***Paziente honetan, zein hortz-arteko higiene tresna
erabiliko zenuke? Zergaitik?***

20. ARIKETA

Diagrama honetan, Euskarriko Terapia periodontalaren jardueraren denbora antolatu,



ETP-denboraren antolamendua (60 minutu)